



1. Wymyśl do obrazka opowiadanie. Oblicz.



8	-		=	
---	---	--	---	--



	-		=	
--	---	--	---	--

2. Ola miała 10 piór. Zrobiła z nich pióropusz. Sprawdź czy wszystkie pióra zużyła do pióropusza. Czy zostały jej jakieś pióra?




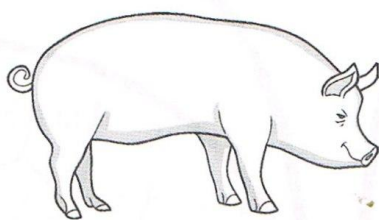
Obliczenie:

--	--	--	--	--	--	--	--	--	--





10	-		=	
----	---	--	---	--

3. Policz i wpisz odpowiednią cyfrę. Ile jest ogonów? Ile jest dziobów? Ile jest ptaków?

Ile jest ogonów?

Ile jest dziobów?

Ile jest ptaków?

--